

1

Nombre y apellidos:


Fecha:

Ciencias de la Naturaleza 2.º

Ficha
1

1 Escribe los números de las partes de la cara señaladas.

- 1 Frente
- 2 Ojo
- 3 Barbilla
- 4 Ceja
- 5 Nariz
- 6 Boca
- 7 Labio
- 8 Mejilla



2 Señala en la imagen estas partes del cuerpo y escribe sus nombres en el lugar que corresponda.

Cabeza	
Tronco	
Extremidades	

- Barbilla
- Brazo
- Frente
- Tórax
- Pie
- Abdomen



3 Completa.

El cerebro está dentro de la

4 Escribe los nombres de estas partes del cuerpo en su lugar.

Corazón Pulmones Riñones Estómago

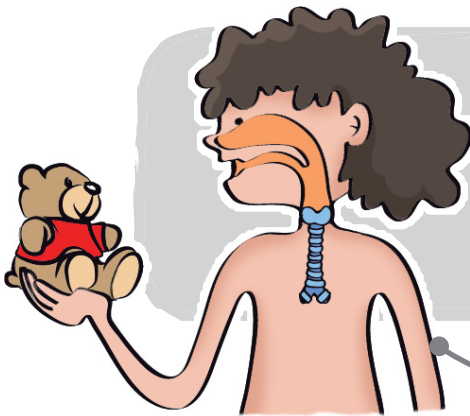
Aparato respiratorio

Aparato circulatorio

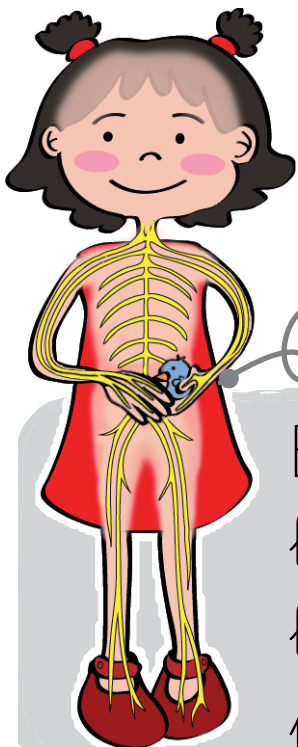
Aparato digestivo

Aparato excretor

5 Dibuja las partes que faltan y completa con sus nombres.

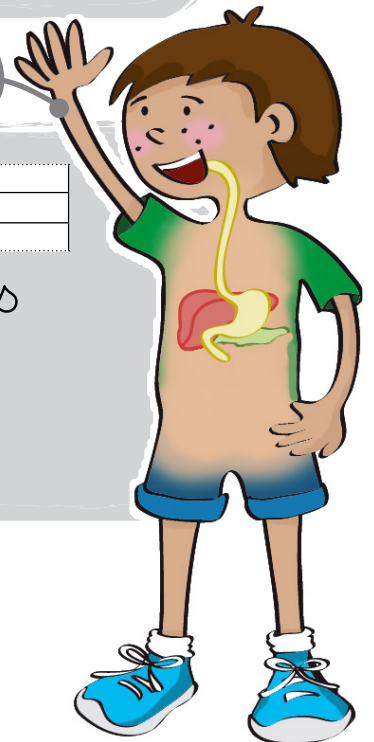


En los se toma el oxígeno que necesitamos para vivir.



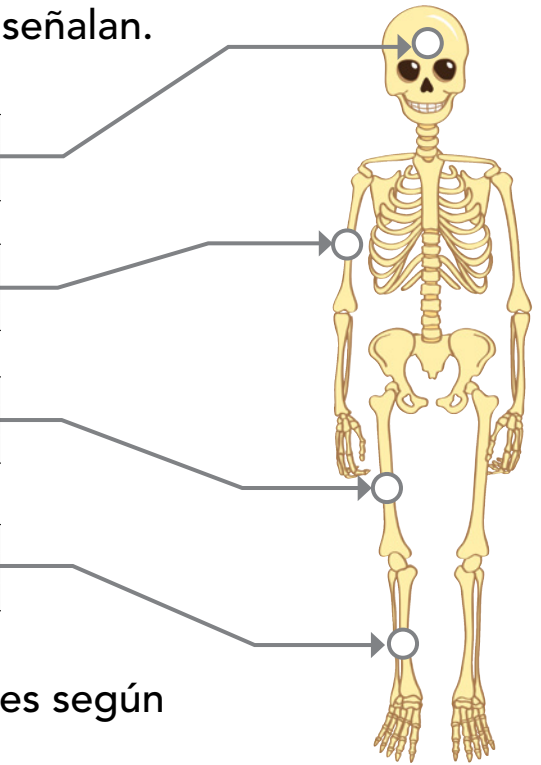
El recibe la información que le llevan los nervios y da órdenes para reaccionar.

En los obtenemos las sustancias de los alimentos que necesitamos para vivir.



6 Escribe los nombres de los huesos que se señalan.

Four sets of horizontal lines for writing, each connected by a line to a specific bone on the skeleton diagram.



7 Escribe los nombres de las siguientes partes según sean huesos, músculos o articulaciones.

- Pectoral Gemelo Hombro Abdominal
- Fémur Tibia Húmero Tobillo Codo

Huesos

Four sets of horizontal lines for writing.

Músculos

Four sets of horizontal lines for writing.

Articulaciones

Four sets of horizontal lines for writing.

8 Escribe los nombres de las etapas de la vida.

